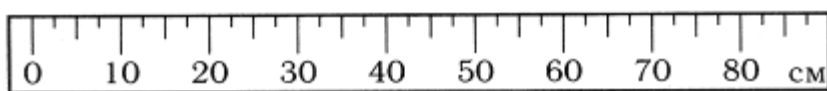


Итоговая контрольная работа по физике 7 класса с выбором ответа
ОБРАЗЕЦ

В предлагаемой контрольной работе к каждому вопросу даны ответы. После обдумывания и решения задачи вы должны выбрать один, который считаете правильным, и записать на отдельном листе соответствующую этому ответу букву. Никаких других записей или пояснений делать не следует.

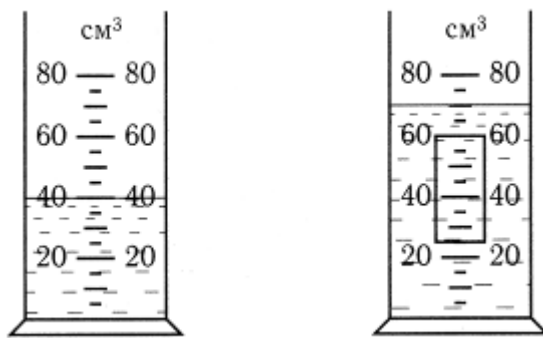
Оценка зависит от числа верных ответов, поэтому в первую очередь отвечайте на те вопросы, которые у вас не вызывают затруднений.

1.1. Цена деления линейки



- А) 5см Б) 60см В) 2,5см Г) 10см

2. Объем тела, погруженного в жидкость



- А) 35см³ Б) 25см³ В) 40см³ Г) 30см³

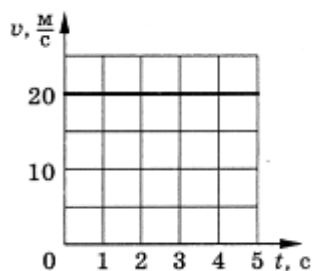
3. Процесс диффузии происходит

- А) только в газах Б) только в жидкостях В) только в твердых телах
Г) в газах, жидкостях, твердых телах

4. Частицы в жидкостях расположены


- А) в определенном (строгом) порядке
Б) близко друг к другу, но строгого порядка в их расположении нет
В) на расстояниях, много больших размеров частиц

5. Путь, пройденный телом за 4с



- А) 5м Б) 20м В) 80м Г) 100м

6. Массы сплошных шаров одинаковы. Вещество с наименьшей плотностью у шара

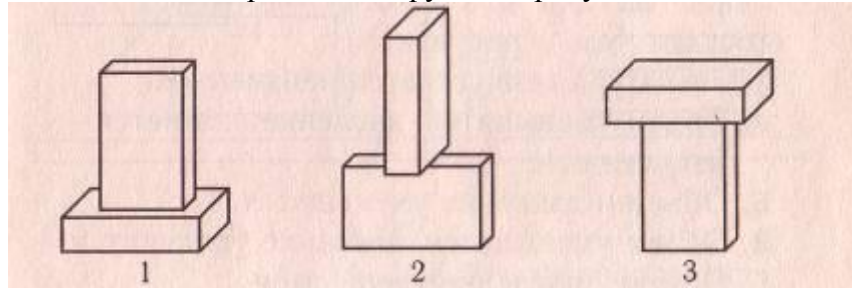


A) 1

Б) 2

В) 3

7. Наименьшее давление на стол производят бруски на рисунке

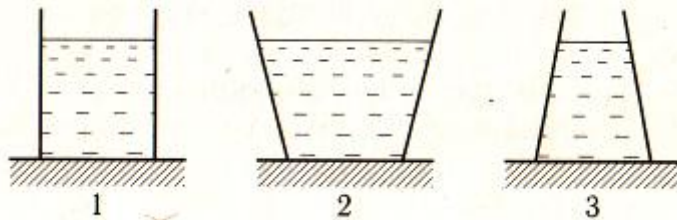


A) 1

Б) 2

В) 3

8. Сравнение давлений воды на дно сосуда

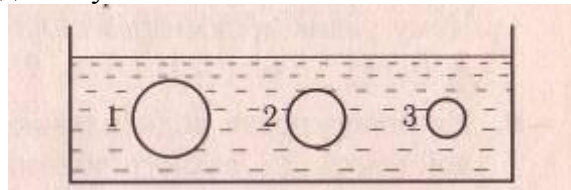


A) наибольшее в 2 сосуде

Б) наименьшее в 3 сосуде

В) во всех сосудах одинаково

9. Наибольшая архимедова сила действует на тело

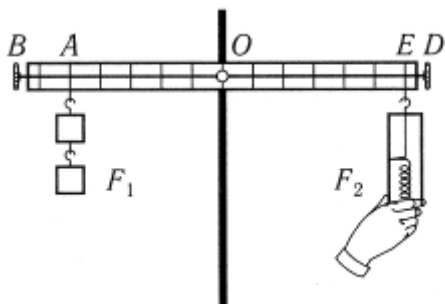


A) 1

Б) 2

В) 3

10. Рычаг находится в равновесии. Если сила $F_1 = 12\text{H}$, то сила F_2 равна



A) 5H

Б) 6H

В) 10H

Г) 24H